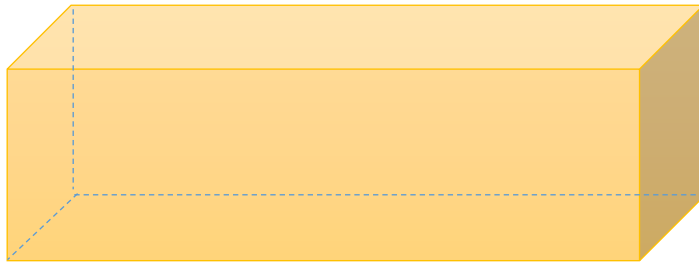


5. _____ klases skolnie _____ 20____. _____.
(vārds, uzvārds) (datums)

6. Taisnstūra paralēlskaldnis

1. variants


1. Kā sauc uzzīmēto figūru?



2. Uzzīmē kubu un uzraksti, cik kubam skaldnes!

3. Cik virsotnes ir taisnstūra paralēlskaldnim?

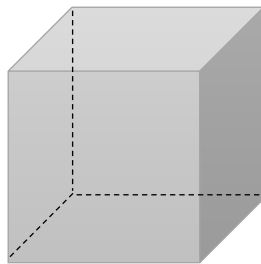
4. Uzzīmē taisnstūra paralēlskaldņa izklājumu!



5. Savā 4. uzdevuma zīmējumā: izmēri un uzraksti, taisnstūra paralēlskaldņa izmērus (garums, platums, augstums)!

6. Taisnstūra paralēlskaldnis 2. variants


1. Kā sauc uzzīmēto figūru?



2. Uzzīmē taisnstūra paralēlskaldni un uzraksti, cik taisnstūra paralēlskaldnim ir virsotnes!

3. Cik skaldnes kubam?

4. Uzzīmē kuba izklājumu!



5. Savā 4. uzdevuma zīmējumā: izmēri un uzraksti, kuba izmērus (garums, platums, augstums)!